



Cyfrif Arian

Adiwch y darnau hyn at ei gilydd



1.  +  =

2.  +  =

3.  +  =

4.  +  =

5.  +  =

6.  +  =

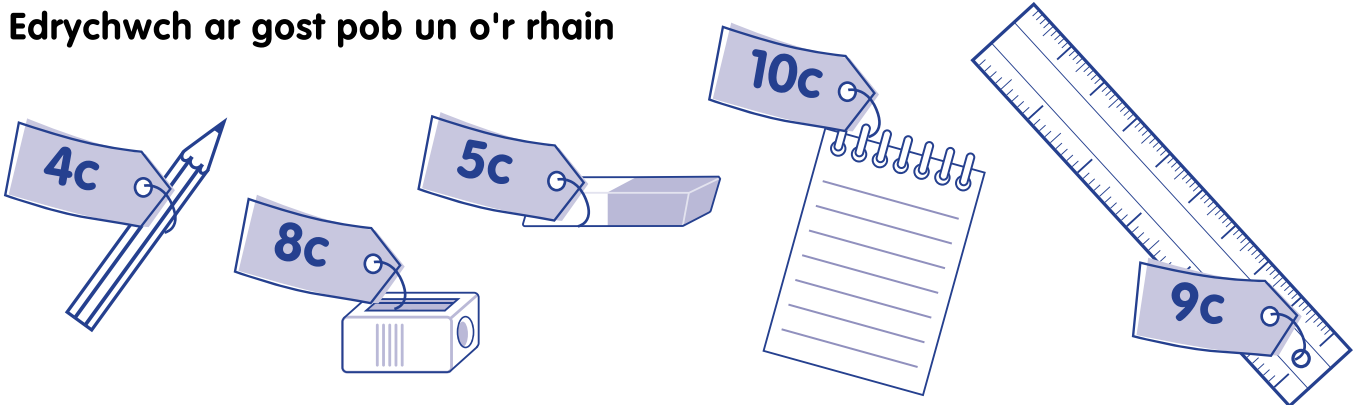
7.  +  =

8.  +  =

9.  +  =

10.  +  =

Edrychwch ar gost pob un o'r rhain



Adiwch ac ysgrifennwch gost y canlynol

1. 1 pensil ac 1 rhwbiwr

4. 1 llyfr nodiadau ac 1 pren mesur

2. 1 pensil ac 1 naddwr

5. 2 pensil ac 1 naddwr

3. 1 pensil ac 1 llyfr nodiadau

6. 1 llyfr nodiadau a 2 rhwbiwr